

Simularea Județeană a Examenului Național
de Bacalaureat Proba E.d) Geografie
Decembrie 2025

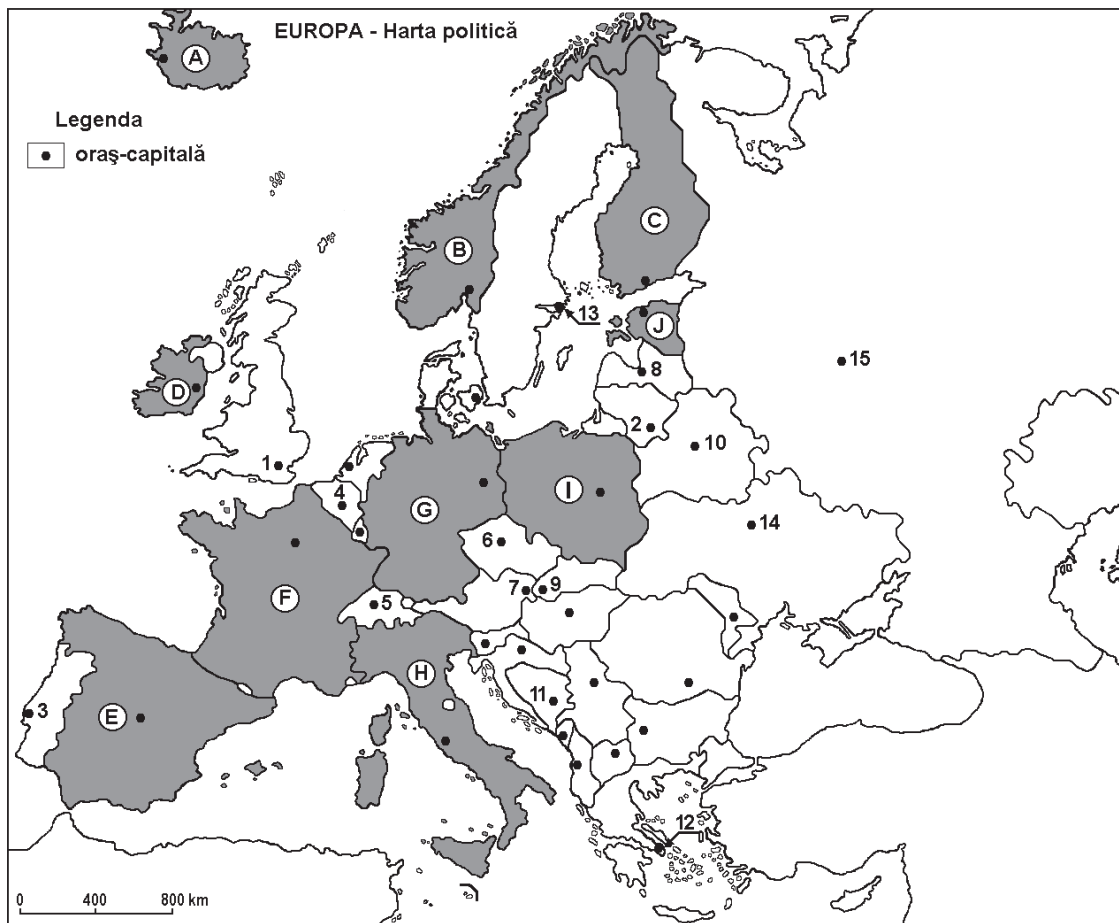
Profilul umanist din filiera teoretică, profilul servicii din filiera tehnologică și toate profilurile și specializările din filiera vocațională, cu excepția profilului militar

- Toate subiectele sunt obligatorii. Se acordă zece puncte din oficiu.
- Timpul efectiv de lucru este de trei ore.

Varianta 1

Subiectul I

(30 de puncte)



Harta de mai sus se referă la subiectul I A – E. Pe hartă, sunt marcate state cu litere și orașe-capitală cu numere.

A. Precizați:

1. numele statelor marcate, pe hartă, cu literele B și D;
2. numele a două insule ce aparțin statului marcat, pe hartă, cu litera H.

4 puncte

B. Scrieți, pe foaia de examen, răspunsurile corecte care completează afirmațiile de mai jos:

1. Câmpia Padului se află pe teritoriul statului marcat, pe hartă, cu litera ...
2. Insula Corsica aparține statului marcat, pe hartă, cu litera ...
3. Punctul extrem nordic al continentului european se află în statul marcat, pe hartă, cu litera ...

6 puncte

INSPECTORATUL ȘCOLAR JUDEȚEAN CLUJ

C. Scrieți, pe foaia de examen, litera corespunzătoare răspunsului corect pentru fiecare dintre afirmațiile de mai jos:

1. Este situat în Peninsula Scandinavă, o mare parte din teritoriul statului marcat, pe hartă, cu litera:

a. B	b. E	c. G	d. A	2 puncte
------	------	------	------	-----------------
2. Munții Pirinei se află în statele marcate, pe hartă, cu literele:

a. B și C	b. G și I	c. H și F	d. E și F	2 puncte
-----------	-----------	-----------	-----------	-----------------
3. Are deschidere la Marea Nordului statul marcat, pe hartă, cu litera:

a. E	b. D	c. H	d. G	2 puncte
------	------	------	------	-----------------
4. Climatul mediteranean este specific statului marcat, pe hartă, cu litera:

a. A	b. B	c. I	d. H	2 puncte
------	------	------	------	-----------------
5. În orogeneza hercinică sau format munții:

a. Alpi	b. Carpați	c. Pădurea Neagră	d. Pirinei	2 puncte
---------	------------	-------------------	------------	-----------------

D. Precizați trei deosebiri între **clima** statului marcat, pe hartă, cu litera **B** și **clima** statului marcat, pe hartă, cu litera **H**.

Nota 1: Deosebirile se pot referi la oricare dintre următoarele elemente de climă: factori genetici, tip de climă, temperaturi medii anuale/vara/iarnă, amplitudine termică, precipitații medii anuale/vara/iarnă, vânturi cu frecvență ridicată, alte aspecte climatice.

Nota 2: Punctajul complet va fi acordat numai dacă deosebirile vor fi prezentate comparativ, și nu separat.

Nota 3: Nu este necesară precizarea numelor statelor, se poate face referire la statele respective cu literele cu care sunt marcate pe hartă. **6 puncte**

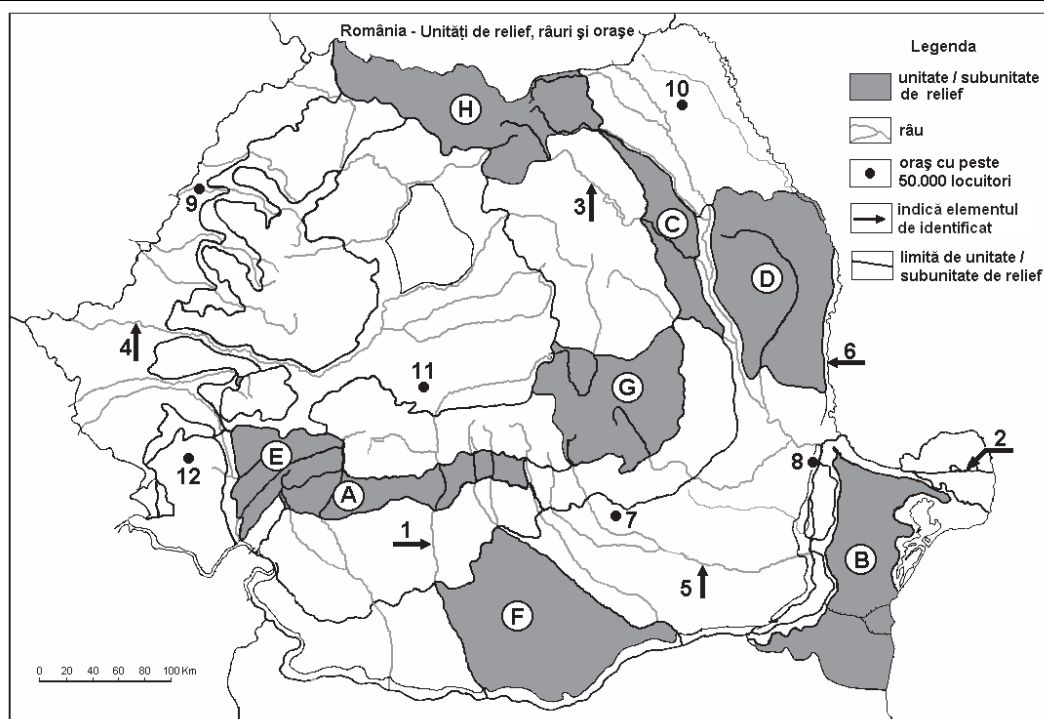
E.1. Precizați o cauză care explică vulcanismul activ din insula Islanda.

2. Prezentăți o cauză a prezenței ghețarilor actuali în munții Alpi.

4 puncte

SUBIECTUL al II-lea

(30 de puncte)



Harta de mai sus se referă la subiectele II A– E. Pe hartă sunt marcate unități de relief cu litere, râuri cu numere de la 1 la 6 și orașe cu numere de la 7 la 12.

A. Precizați:

1. Numele unităților de relief marcate, pe hartă, cu literele **H** și **B**;
2. Numele a două unități de relief, indicate pe hartă, unde este prezent relief glaciar.

4 puncte

B. Scrieți, pe foaia de examen, răspunsurile corecte care completează afirmațiile de mai jos:

1. Roci variate (vulcanice, metamorfice, sedimentare) dispuse pe trei fâșii paralele sunt în unitatea de relief marcată, pe hartă, cu litera
2. România se învecinează în sud cu statul numit ...
3. Parcul Național Retezat se găsește în unitatea de relief marcată, pe hartă, cu litera ...

6 puncte

C. Scrieți, pe foaia de examen, litera corespunzătoare răspunsului corect pentru fiecare dintre afirmațiile de mai jos:

1. Cele mai vechi roci din România se află în unitatea de relief notată cu litera:
a. B b. D c. G d. H 2 puncte
2. Vârful Peleaga este prezent în unitatea de relief marcată, pe hartă, cu litera:
a. A b. E c. G d. H 2 puncte
3. Unitatea de relief componentă a Câmpiei Române este marcată, pe hartă, cu litera:
a. B b. D c. E d. F 2 puncte
4. Relieful glaciatic este prezent în unitatea de relief marcată, pe hartă, cu litera:
a. B b. C c. D d. H 2 puncte
5. Are graniță comună cu Republica Moldova unitatea de relief marcată, pe hartă, cu litera:
a. A b. G c. D d. F 2 puncte

D. Precizați trei deosebiri între **relieful** unității marcate, pe hartă, cu litera **E** și **relieful** unității marcate, pe hartă, cu litera **F**.

Nota 1: Deosebirile se pot referi la oricare dintre următoarele aspecte ale **reliefului**: mod de formare, tipuri de roci pe care s-a format relieful, altitudini, gradul de fragmentare, trepte de relief, tipuri genetice de relief, orientarea culmilor și a văilor principale, dispunerea depresiunilor, alte aspecte specifice ale reliefului.

Nota 2: Punctajul complet va fi acordat numai dacă cele trei deosebiri vor fi prezentate comparativ, și nu separat.

Nota 3: Nu este necesară precizarea numelor unităților de relief, se poate face referire la unitățile de relief respective cu literele cu care sunt marcate pe hartă.

6 puncte

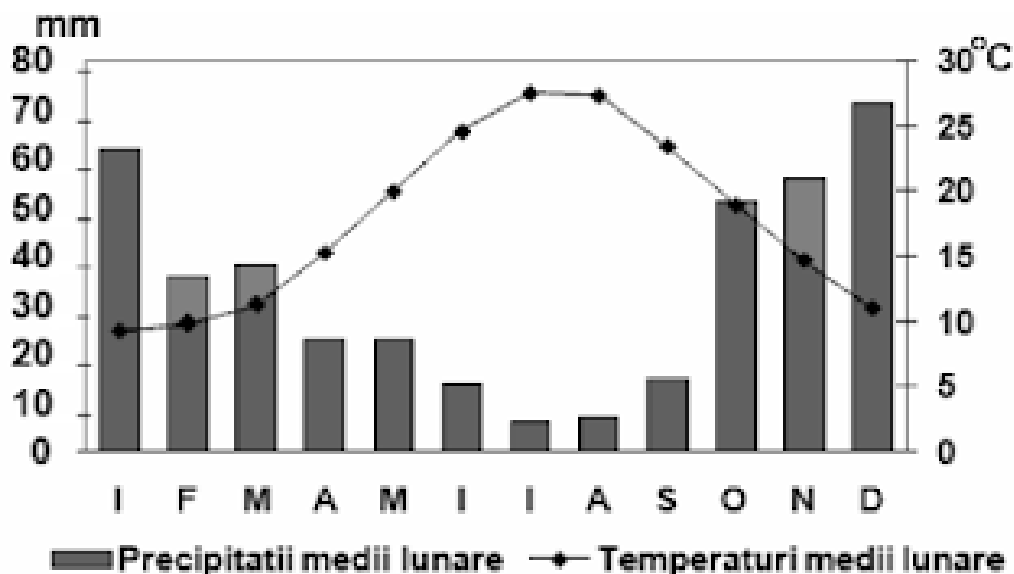
E.1. Prezentati o cauză a prezenței reliefului glaciatic în Grupa Făgăraș.

2. Menționați o cauză care să explice diferența de temperatură medie anuală între sudul și nordul țării. 4 puncte

SUBIECTUL al III-lea

(30 de puncte)

Reprezentarea grafică de mai jos se referă la subiectul III A – B și prezintă evoluția temperaturilor medii lunare ale aerului și a cantităților medii lunare ale precipitațiilor la o stație meteorologică din Europa.



INSPECTORATUL ȘCOLAR JUDEȚEAN CLUJ

A. Scrieți pe foaia de examen:

1. valoarea maximă a temperaturii medii lunare, precum și luna în care se înregistrează;
2. valoarea minimă a precipitațiilor medii lunare, precum și luna în care se înregistrează.

4 puncte

B. Precizați:

1. modul de calcul al precipitațiilor medii anuale;
2. valoarea amplitudinii termice medii anuale;
3. tipul de climă ilustrat în diagrama climatică analizată.

6 puncte

C. Se dau următoarele denumiri ale articulațiilor țărmurilor Europei: Biscaya, Botnic, Calais, Corfu, Creta, Finic, Gibraltar, Islanda, Otranto și Sardinia. Notați, pentru fiecare, categoria din care face parte: golf, insulă sau strâmtoare.

10 puncte

D. Grupați următoarele unități montane din Europa în funcție de orogeneza în care s-au format: Munții Balcani, Munții Grampian, Munții Harz, Munții Pirinei, Munții Scandinaviei și Munții Ural.

6 puncte

E. 1. Prin poziția sa geografică, România este o țară carpatică. Menționați două consecințe ce decurg din această situație.

2. Precizați două cauze care determină distribuția neuniformă a precipitațiilor medii anuale în Europa.

4 puncte